





نام و نام خانوادگی:	به نام خالق بی‌همتا	آزمون دی ماه
نام آموزگار:	پایه پنجم ابتدایی	درس ریاضی
نام مدرسه:		
صفحه: ۱	عملکرد نهایی: خیلی خوب <input type="checkbox"/> خوب <input type="checkbox"/> قابل قبول <input type="checkbox"/> نیاز به تلاش بیشتر <input type="checkbox"/>	

ردیف	پیامبر اکرم (ص): خوشا آنکه به علم خود عمل کند.
۱	<p>⊛ پاسخ صحیح را با علامت X مشخص کنید.</p> <p>۱. در تساوی $\frac{22}{16} = \frac{3}{3}$ به جای مربع، چه عددی را باید قرار دهیم؟</p> <p>الف) ۴ <input type="checkbox"/> ب) ۶ <input type="checkbox"/> ج) ۸ <input type="checkbox"/> د) ۱۲ <input type="checkbox"/></p> <p>۲. شکل رو به رو چند خط تقارن دارد؟</p> <p>الف) ۲ <input type="checkbox"/> ب) ۳ <input type="checkbox"/> ج) ۴ <input type="checkbox"/> د) ندارد <input type="checkbox"/></p> 
۲	<p>*در جای خالی کلمه یا عبارت مناسب بنویسید.</p> <p>۱. نیم خطی که زاویه‌ای را به دو زاویه‌ی مساوی تقسیم می‌کند..... نامیده می‌شود.</p> <p>۲. هر گاه شکلی را نیم دور حول نقطه‌ای بچرخانیم و شکل روی خودش منطبق شود، می‌گوییم آن شکل دارد.</p>
۳	<p>⊛ عبارت‌های صحیح و غلط را مشخص کنید.</p> <p>۱۶ درصد را به صورت $\frac{\quad}{16}$ می‌نویسیم.</p> <p>اگر عدد ۱۲۵۸ را در عدد ۱۰۰ ضرب کنیم مرتبه‌ی رقم ۲ تغییر می‌کند.</p> <p>صحیح <input type="checkbox"/> غلط <input type="checkbox"/></p>
۴	<p>با توجه به عدد زیر به سؤالات پاسخ دهید.</p> <div style="border: 1px solid black; padding: 5px; width: fit-content; margin: 0 auto;"> <p>دویست و هشتاد میلیارد و نهمصد هزار و سی و شش</p> </div> <p>۱. عدد را به رقم بنویسید.....</p> <p>۲. کدام رقم بیشترین ارزش مکانی را دارد؟</p> <p>۳. بزرگترین رقم، دارای کدام ارزش مکانی است؟</p> <p>۴. ارزش مکانی رقم ۸ را مشخص کنید.</p>

ادامه سؤالات در صفحه ۲

صفحه ۲	
۵	علی و خانواده‌اش ساعت ۸:۳۰ اصفهان را به مقصد شهرکرد ترک کردند. اگر آن‌ها ۱ ساعت و ۵۰ دقیقه در مسیر باشند، چه ساعتی به شهرکرد می‌رسند؟
۶	حاصل عبارت زیر را به ساده‌ترین شکل ممکن به دست آورید. $3\frac{7}{8} + 4\frac{2}{5} =$ $9 - 4\frac{1}{6} =$ $\frac{1}{4} \times 3\frac{1}{9} =$ $16 \div 5 =$
۷	کسره‌های زیر را ساده کنید. $\frac{56}{35} =$ $\frac{12 \times 29}{3 \times 6} =$
۸	با توجه به شکل رو به رو: (الف) نسبت عرض مستطیل کوچک به محیط آن را پیدا کنید.  (ب) نسبت عرض مستطیل بزرگ به محیط آن را پیدا کنید.  (ج) آیا این دو نسبت با هم برابرند؟
۹	احمد ۹ شکلات بیشتر از رضا دارد. اگر نسبت شکلات‌های احمد به رضا ۷ به ۴ باشد، احمد و رضا هر کدام چند شکلات دارند؟
۱۰	۴۰ درصد شکل زیر را هاشور بزنید. 

ادامه سؤالات در صفحه ۳

صفحه ۳	
۱۱	<p>۶۵ درصد دانش آموزان یک کلاس ۱۳ نفر است. الف) تعداد دانش آموزان کلاس چند نفر است؟</p> <p>ب) ۱۵ نفر چند درصد از دانش آموزان این کلاس است؟</p>
۱۲	<p>در شکل زیر نیم خط «ب س»، نیمساز زاویه ی «ر س د» است. اندازه ی زاویه ی مشخص شده را پیدا کنید. روش خود را توضیح دهید..</p>

جزوه سیپی